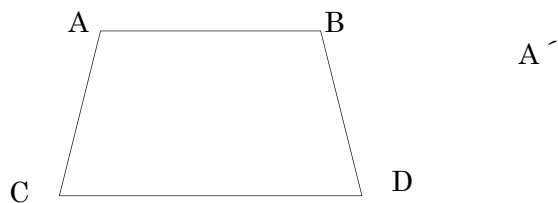


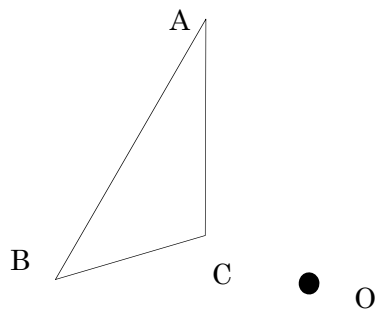
第 104 回 図形の移動 問題編

問題

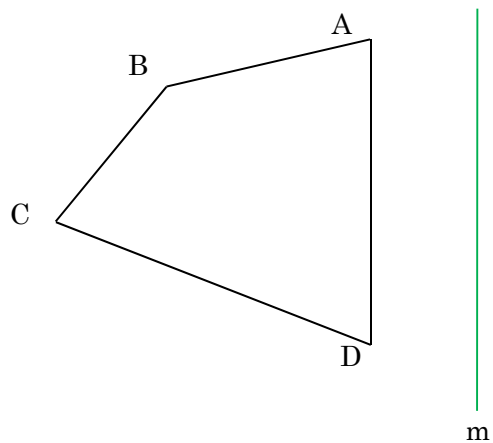
- ① 四角形 ABCD を A が A' に移るように平行移動せよ。



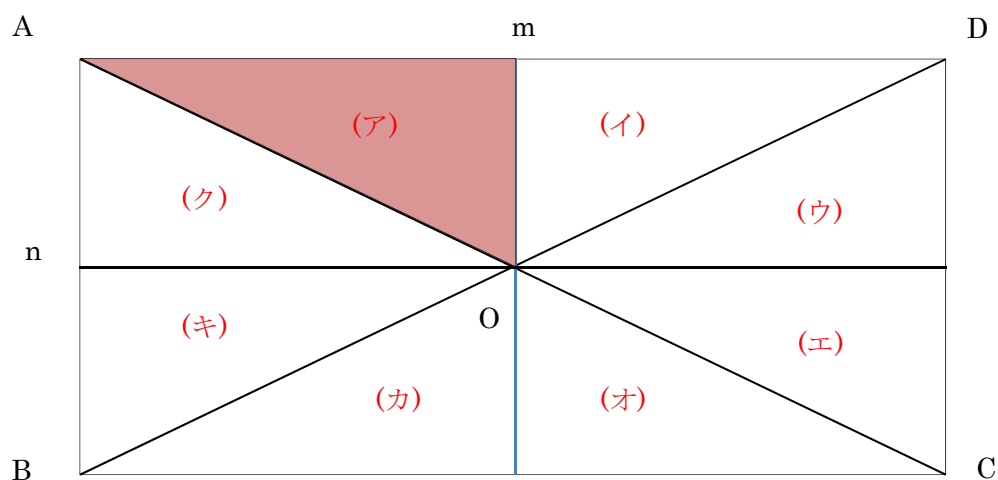
- ② $\triangle ABC$ を点 O を中心として 180° 回転移動せよ。



- ③ 四角形 ABCD を直線 m について対象移動せよ



④ 長方形 ABCD を(ア)はどこへ移るか



(4-1) n に対象移動し、m に対称移動

(4-2) 点 O に 180° 回転移動し、n に対称移動

(4-3) m に対称移動し、点 O に 180° 回転移動